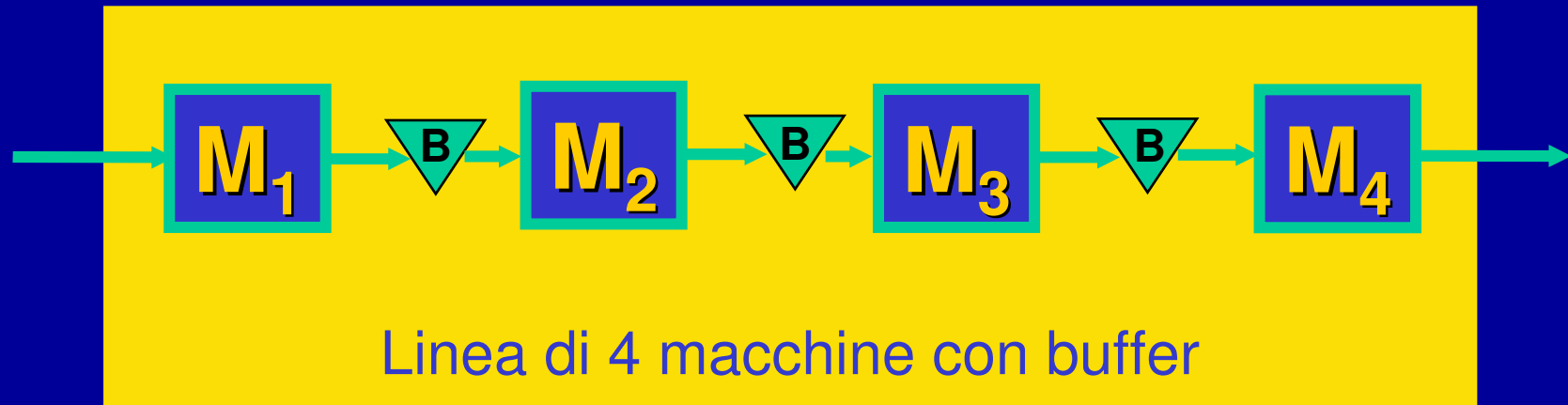
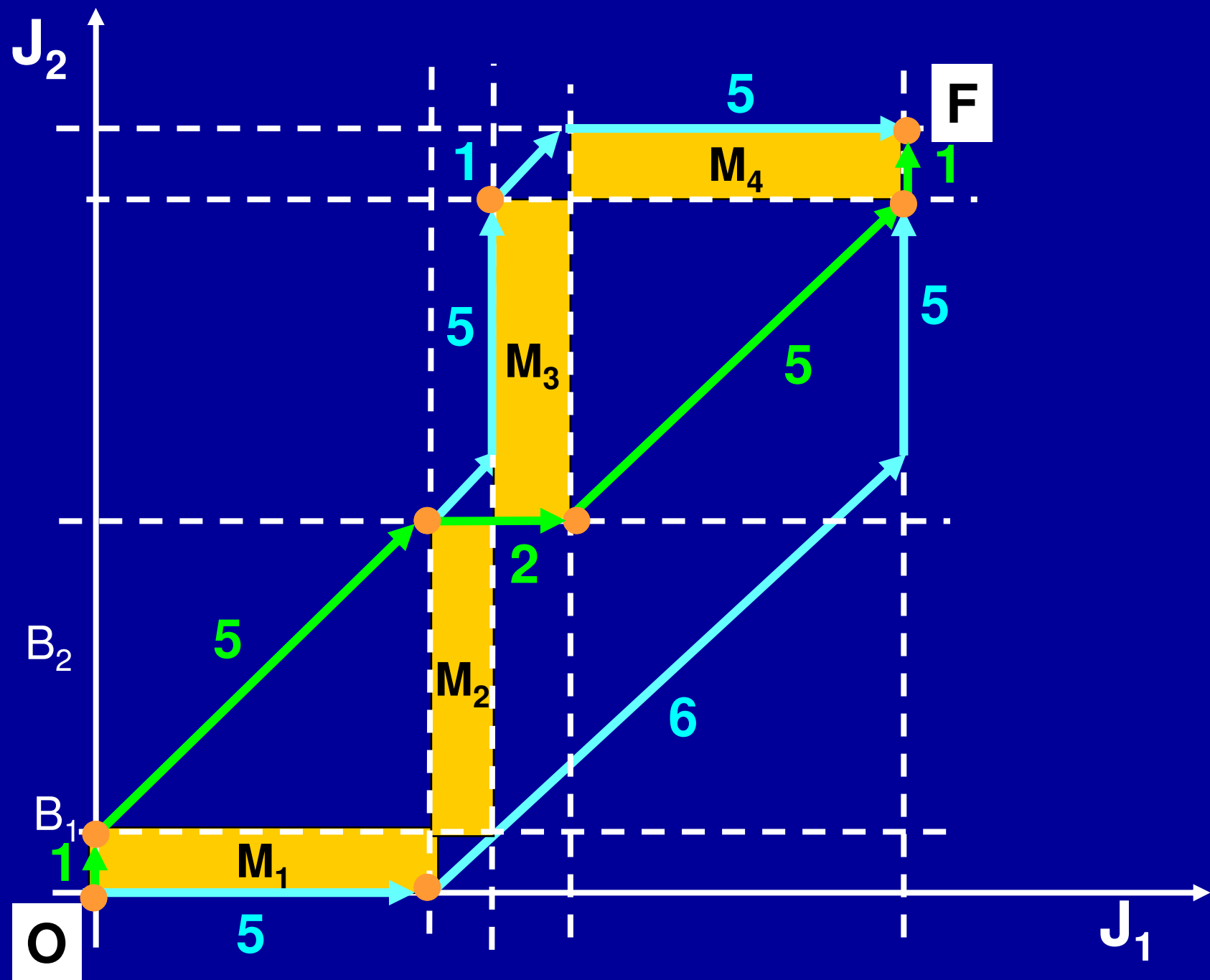


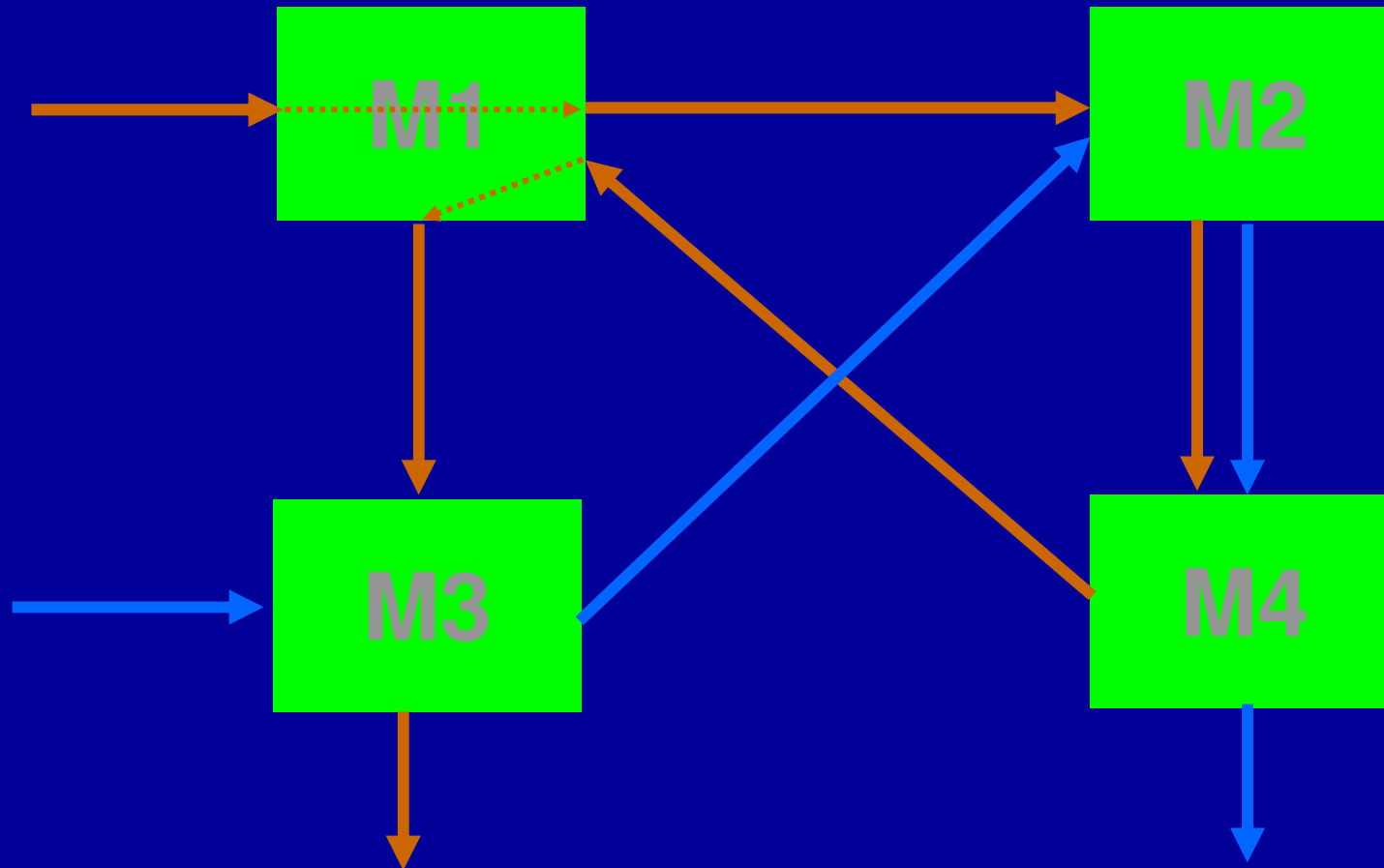
La soluzione del 2JSP è la generalizzazione di quella data da Aker per 2 lavori  $J_i$  di  $m$  operazioni in serie da eseguire su una linea con buffer intermedi: ciascuno di lunghezza temporale  $t_i$  sulla macchina  $M_i$  ( $i=1, \dots, m$ )



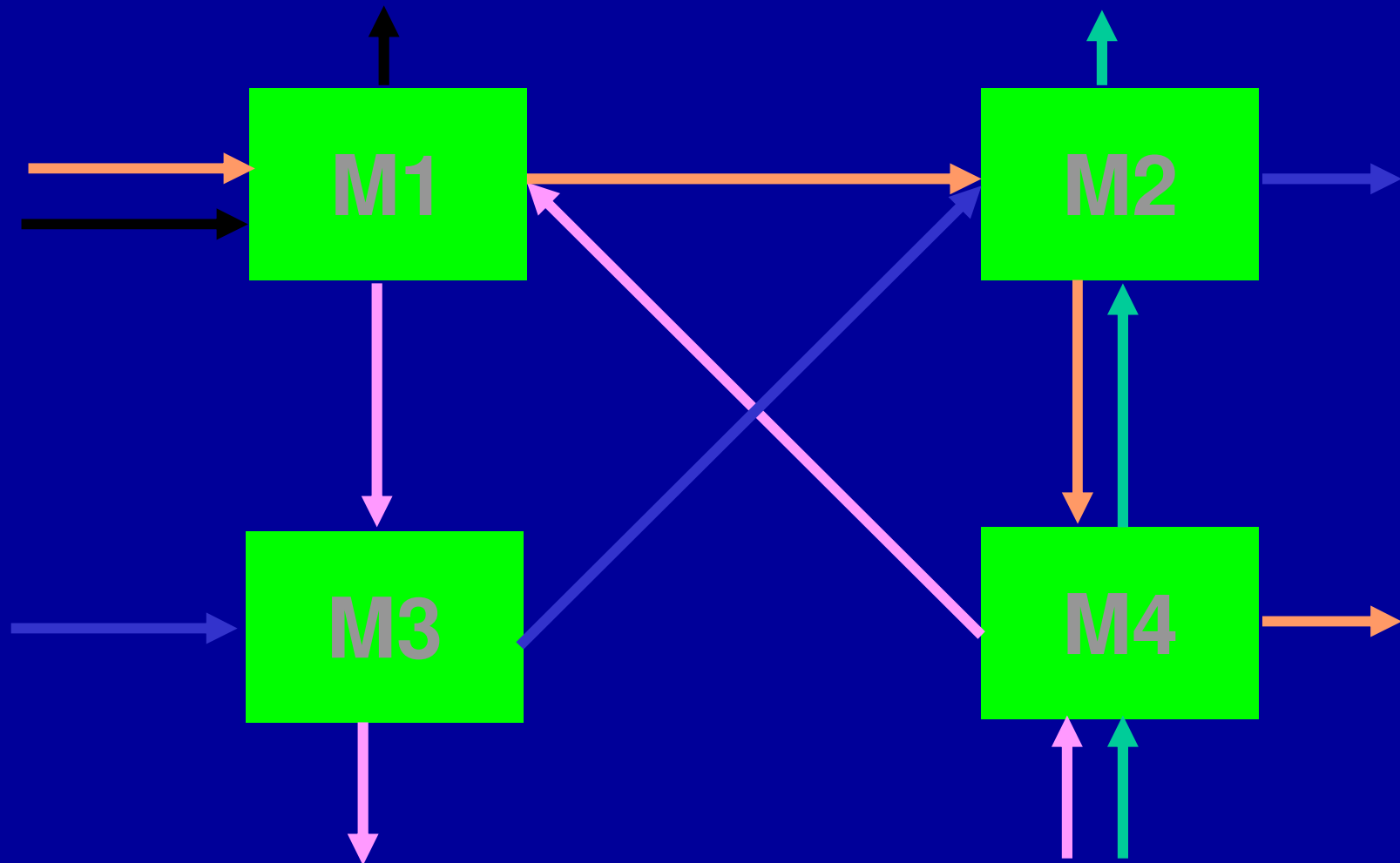
Per minimizzare il tempo di completamento  $C_m$  si usa una griglia di divisione in cui le zone proibite riguardano le macchine



**Min  $C_m$  si può risolvere come un  
2JSP allo stesso modo**



**Min  $C_m$  non si può risolvere allo stesso modo quando i lavori sono  $n > 2$  (già per  $n=3$  le zone proibite sarebbero cubi e la progressione greedy potrebbe incidere su una faccia ....)**



# Flow shop

In una linea esiste un vincolo tecnologico  
detto “flow shop”:

tutti i lavori devono visitare

le macchine nello stesso ordine

**Il Flow shop è un caso particolare di Job Shop**

**Quando non altrimenti specificato, si intende**

**che i lavori possono aspettare tra**

**un'operazione e la seguente**

**(ATTENZIONE: grazie ai buffer, le macchine  
possono operarli in ordine diverso)**

# Permutation schedule


Quando in un flow shop si ha uno schedule nel quale le macchine processano i lavori nello stesso ordine (cioè quando: se la macchina  $M_1$  processa  $J_i$  prima  $J_k$ , ciò è vero anche per le altre macchine), allora si ha un “Permutation schedule”

**ATTENZIONE.** Senza buffer si ha sempre un Permutation schedule

# INDICI REGOLARI

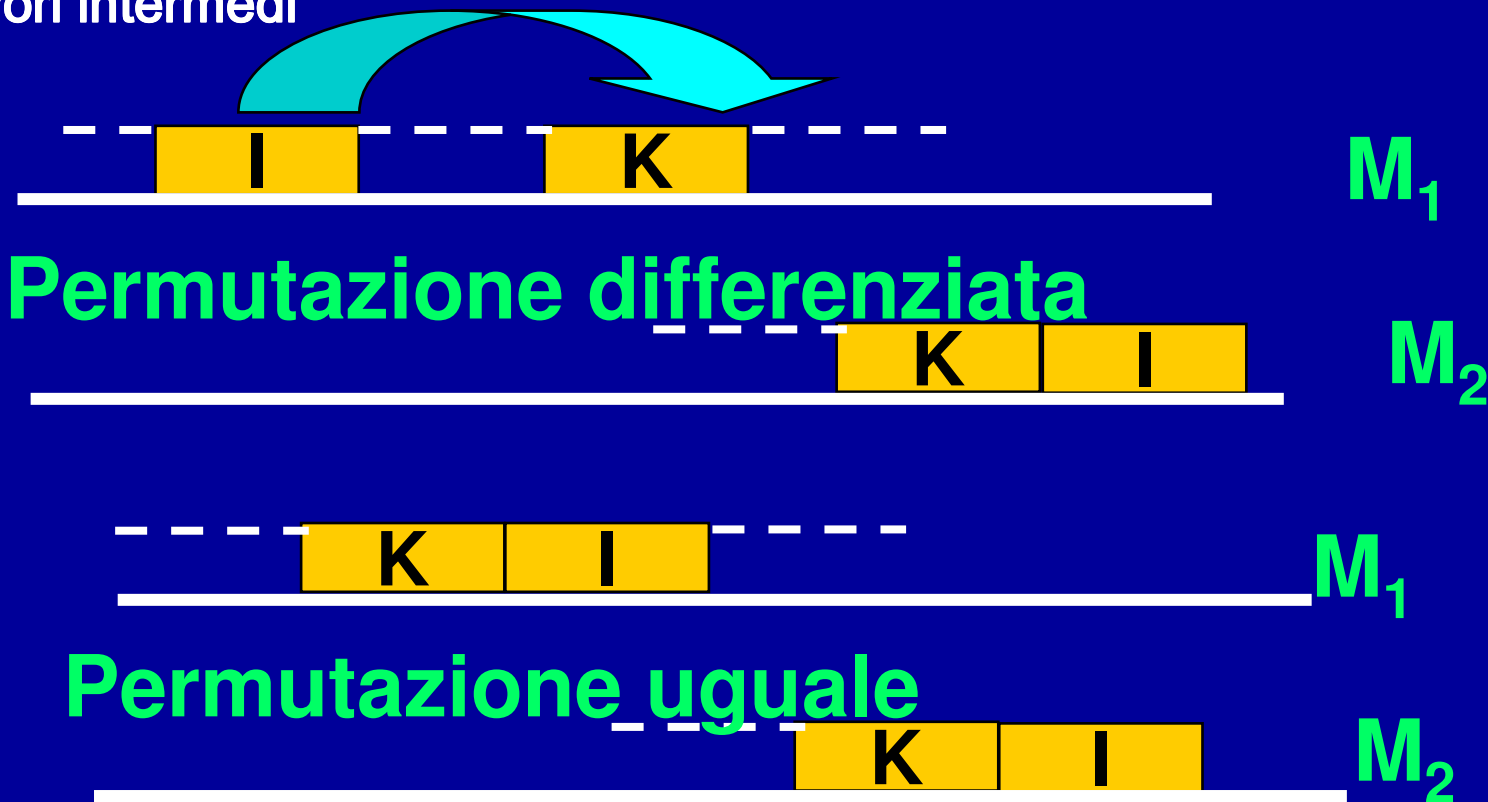
$C_m$  è un particolare, importante, “indice regolare” cioè una funzione non decrescente dei tempi di completamento dei lavori:

$$f(C_1 \dots C_n)$$



Quando l'indice di comportamento è regolare, in un Flow Shop, senza perdita di generalità, ci si può limitare a considerare un “Permutation flow shop” sulle prime due macchine

I si inserisce, sulla prima macchina, dopo K, arretrando quest'ultimo e i lavori intermedi



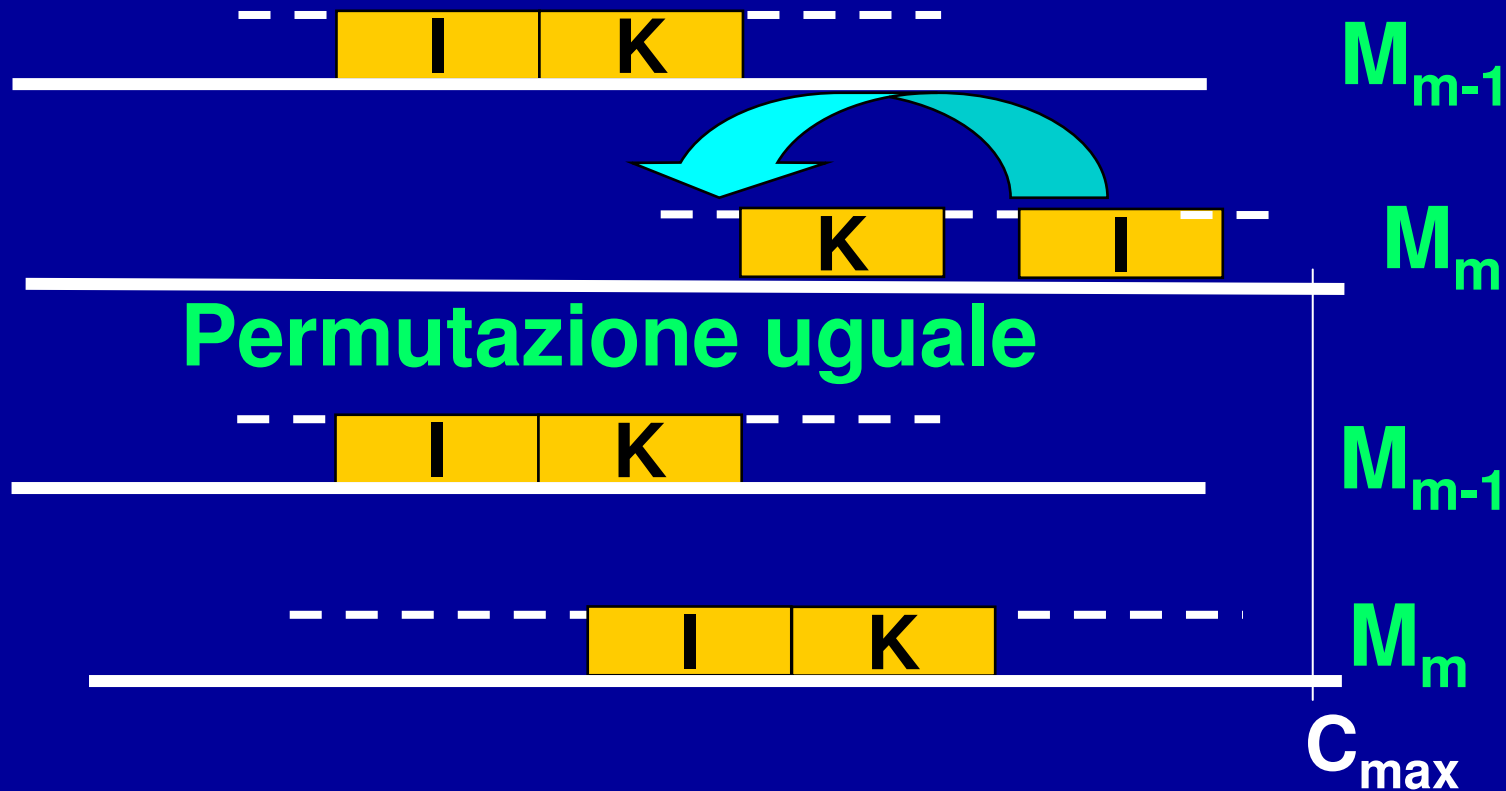
Abbiamo ottenuto un permutation schedule sulle prime due macchine senza influenzare i lavori su  $M_2$  e quindi i  $C_i$



## Indice di comportamento $C_m$

**Quando l'indice è  $C_m$ , in un Flow Shop ci si può limitare a considerare un "Permutation flow shop" sulle ultime due macchine , senza perdita di generalità**

## Permutazione differenziata



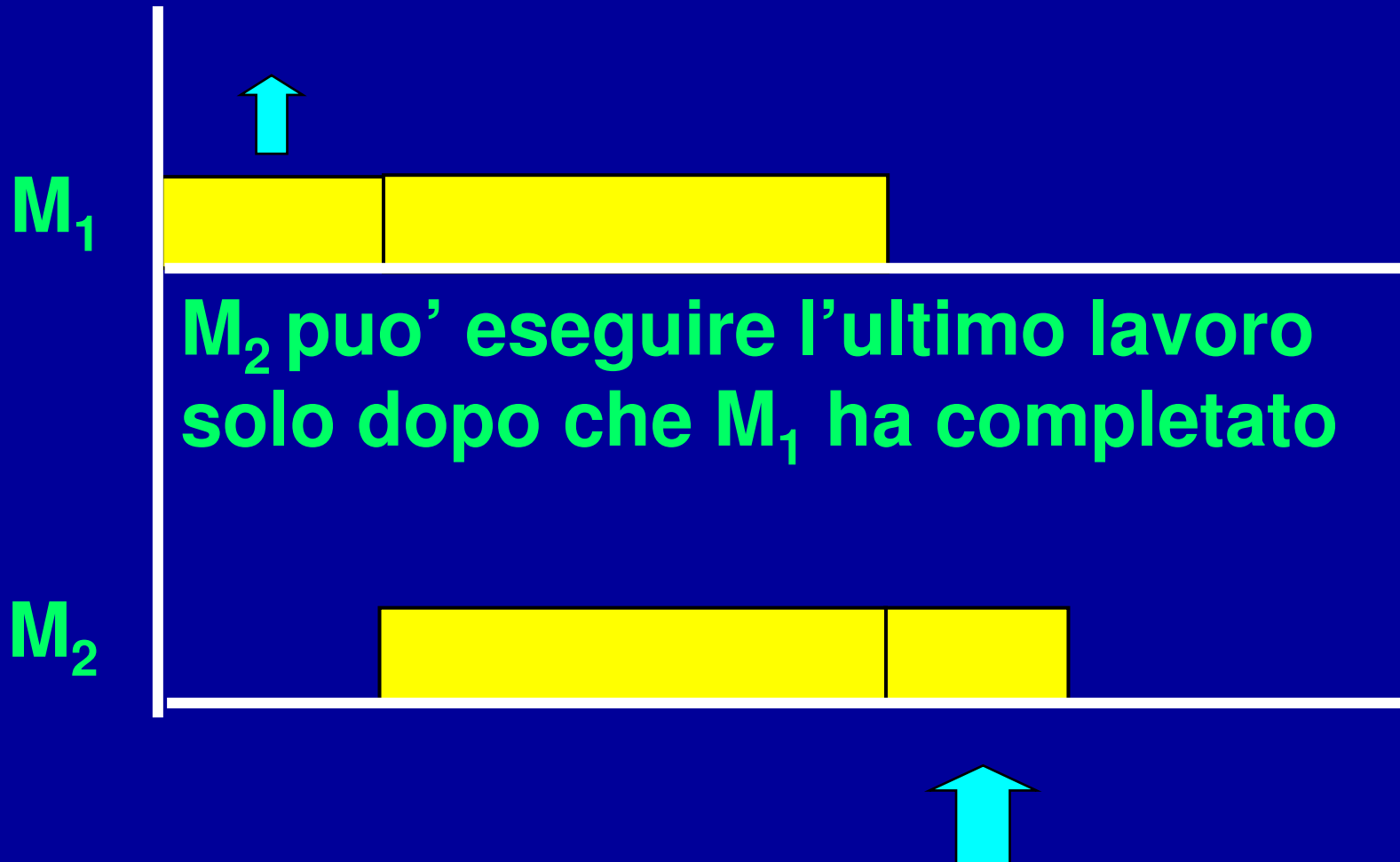
Abbiamo ottenuto un permutation schedule senza influenzare il completamento dei lavori su  $M_m$ , cioè  $C_{max}$

# PROBLEMA

- **n LAVORI**
- **2 MACCHINE**
- **Min {  $F_{\max} (= C_m)$  }**

Si usa indicare questo problema con  $(n / 2 / F / F_{\max})$ : il primo campo indica il numero dei lavori, il secondo il numero di risorse, il terzo la corrispondenza tra operazioni e risorse utilizzate, il terzo l'indice di comportamento

**$M_2$  deve aspettare che il primo lavoro su  $M_1$  sia terminato**



**$M_2$  puo' eseguire l'ultimo lavoro solo dopo che  $M_1$  ha completato**

# ALGORITMO DI JOHNSON

$a_i = p_{i1}$  tempo di processamento  
di  $J_i$  su  $M_1$

$b_i = p_{i2}$  tempo di processamento  
di  $J_i$  su  $M_2$

# ALGORITMO DI JOHNSON

Se

1)  $a_k = \min\{a_1, \dots, a_n, b_1, \dots, b_n\}$

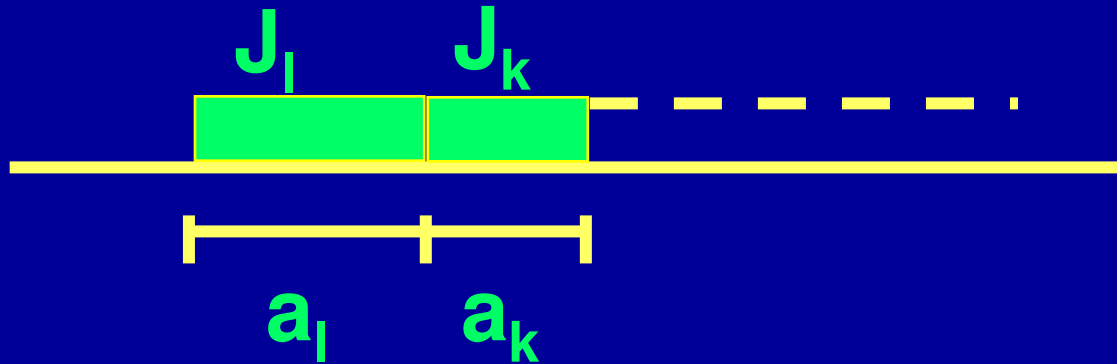
$\exists$  uno schedule ottimo nel quale  $J_k$  è processato per primo.

2)  $b_u = \min\{a_1, \dots, a_n, b_1, \dots, b_n\}$

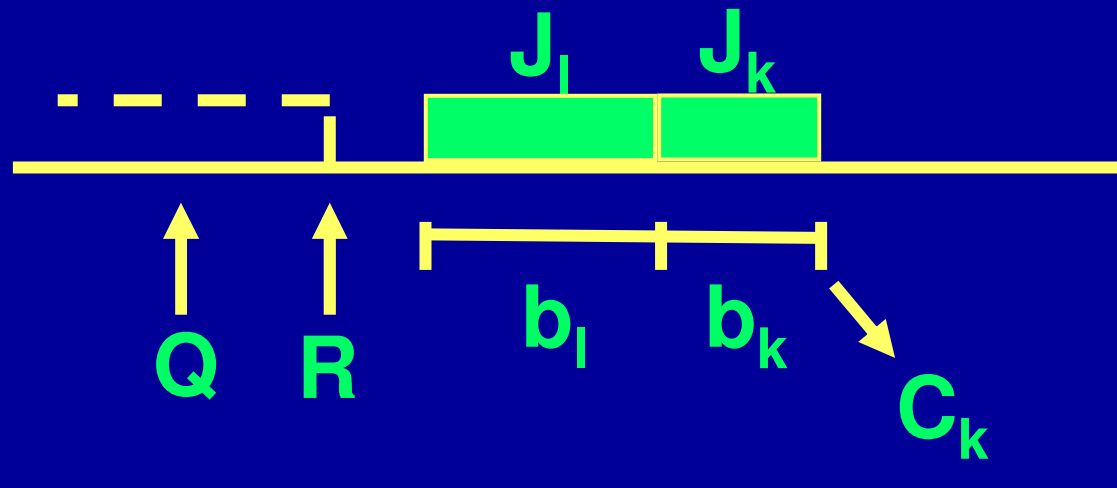
$\exists$  uno schedule ottimo nel quale  $J_u$  è processato per ultimo.

# Sequenziamento S

$M_1$



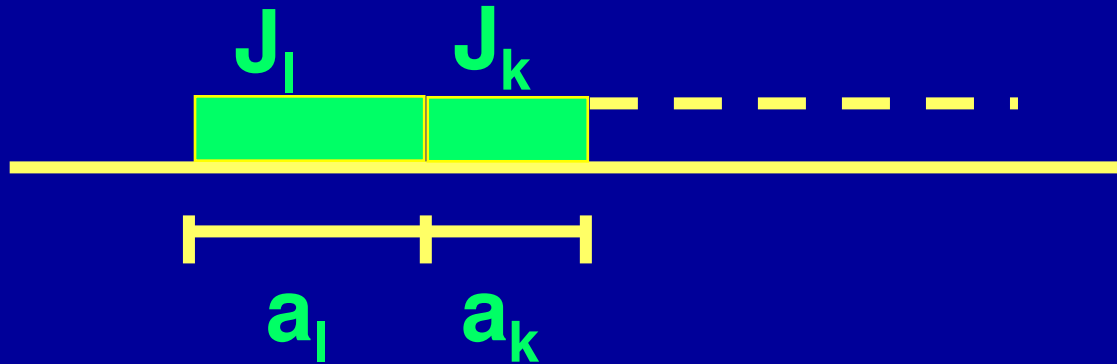
$M_2$



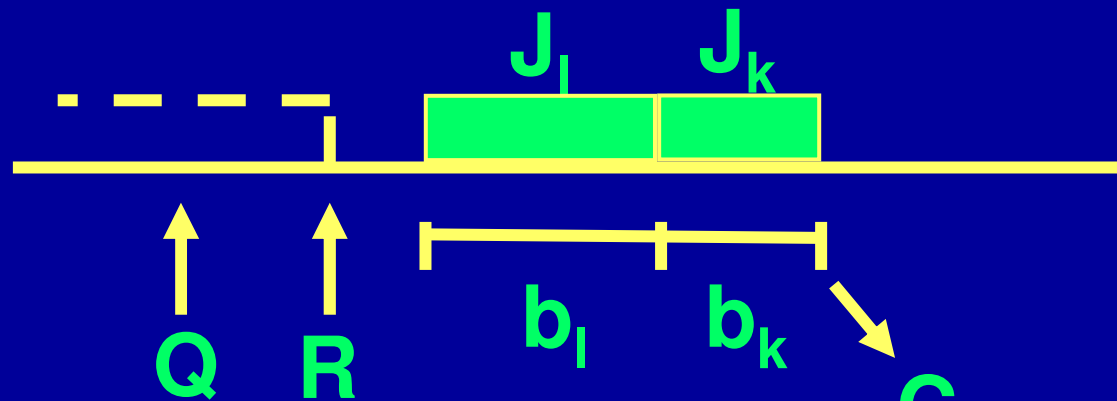
$$a_k \leq b_1$$

# Sequenziamento S

$M_1$



$M_2$

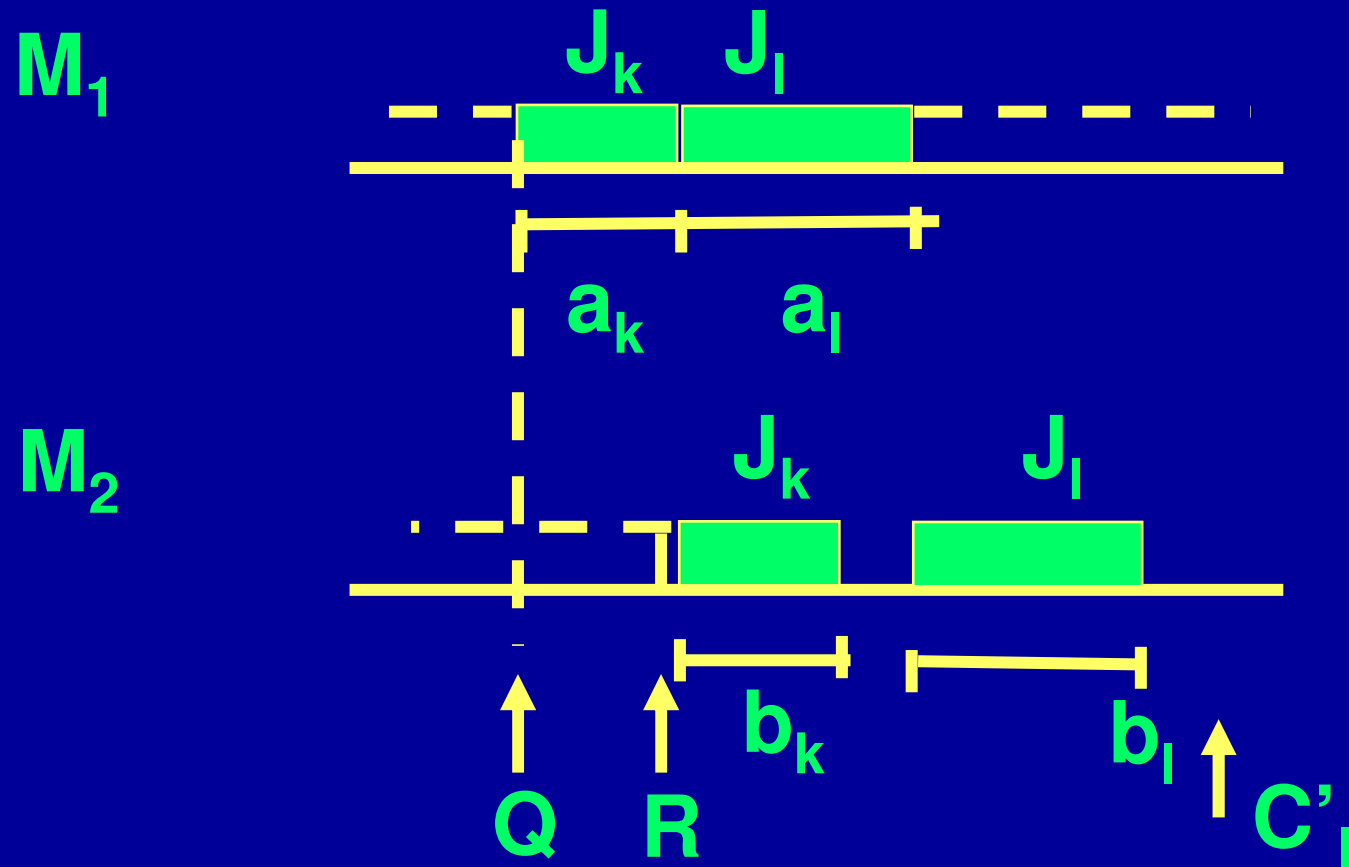


$$C_k = \max (R, Q + a_1) + b_1 + b_k$$

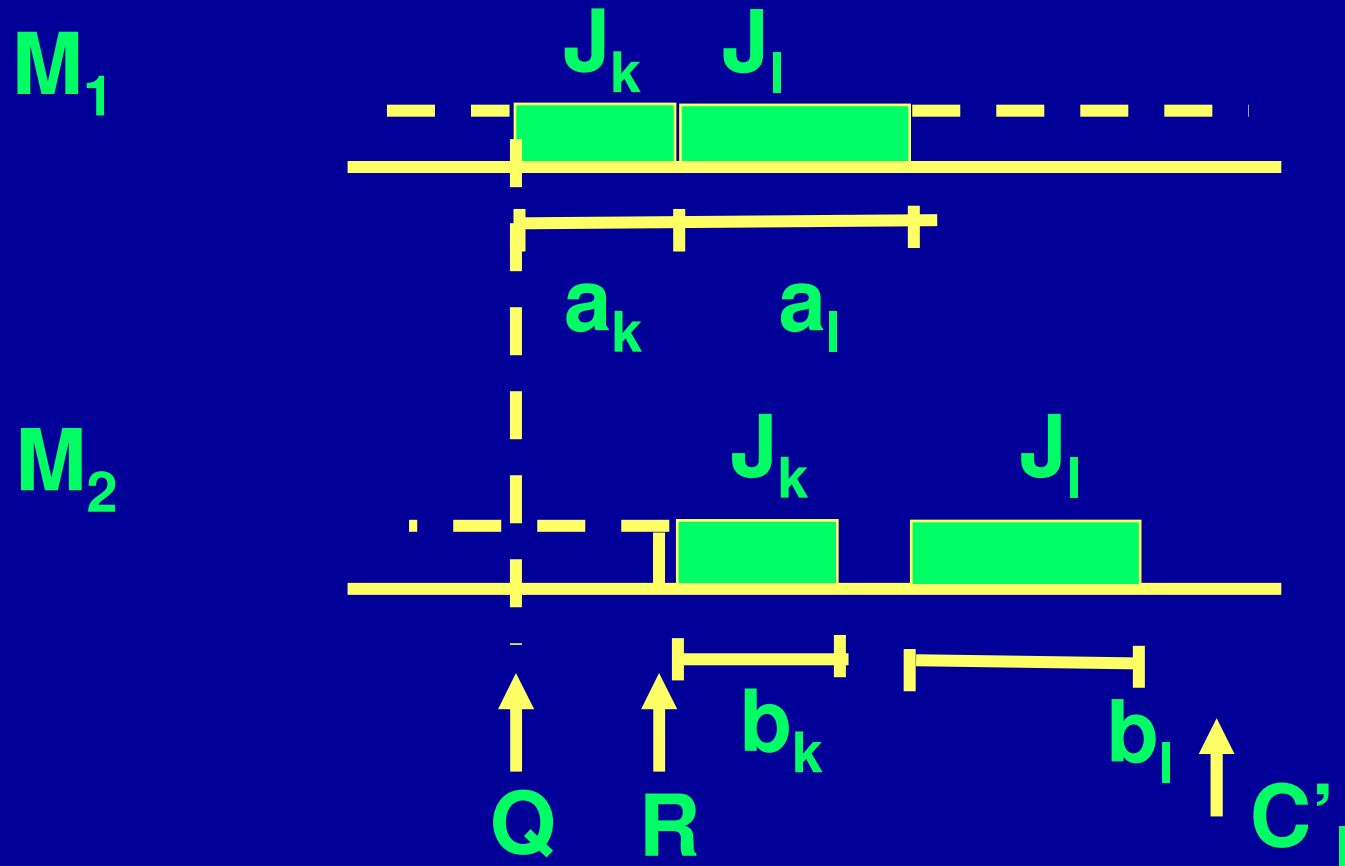
$$a_k \leq b_1$$



# Sequenziamento S'



# Sequenziamento S'




$$C'_1 = b_1 + \max\{\max(R, Q + a_k) + b_k, Q + a_k + a_1\}$$

# TESI

$$a_k = \min\{a_1, \dots, a_n, b_1, \dots, b_n\}$$

$\exists$  uno schedule (S') ottimo nel quale  $J_k$  è processato per primo.



$$C'_1 \leq C_k$$

$$c_k = \max (R, Q+ a_l) + b_l + b_k$$

$$c_k \geq \max\{R, Q+a_k\}+b_l + b_k$$

$$a_k \leq a_l$$

$$c_k \geq Q + a_l + b_k + b_l$$

$$\geq Q + a_l + a_k + b_l$$

$$a_k \leq b_k$$

$$c_k \geq c'_l$$

$$C'_l = \max\{\max (R, Q+ a_k)+b_k, Q+a_k+a_l\}+b_l$$

# ALGORITMO

Si è dimostrato che si può anticipare  $J_k$  rispetto al  $J_l$  che lo precede in una **schedule ottima** senza alcuna ipotesi sulla **schedule** dei lavori sequenziati prima di  $J_l$ . **Ne consegue che, assegnato  $J_k$  al primo posto, lo stesso ragionamento si applica agli  $n-1$  lavori ancora da schedulare. Da cui l'algoritmo che segue**

# Algoritmo di Johnson (1954)

**Passo 1**       $K = 1, l = n$

**Passo 2**       $NS := \{ J_1, \dots, J_n \}$

**Passo 3**    Se  $a_j = \min_{i: J_i \in NS} (\min (a_i, b_i))$

$i(k) = j$

$NS := NS / \{J_j\} \quad k := k+1$

# Algoritmo di Johnson (1954)

**Passo 4** Se  $b_j = \min_{i: J_i \in NS} (\min(a_i, b_i))$

$$i(l) = j$$

$$NS := NS / \{J_j\} \quad l := l - 1$$

**Passo 5** Se  $NS \neq \{\emptyset\}$   $\longrightarrow$  **Passo 3**

Altrimenti la sequenza ottima è  $\{J_{i(.)}\}$

# Esercizio su Johnson

I tempi sulle macchine sono:

Lavori:	1	2	3	4	5	6
su $M_1$	1	2	3	4	5	7
su $M_2$	6	6	6	5	3	5

Per vedere quanto si guadagna con il buffer, si minimizzi rispetto alla sequenza  $C_m$  quando non c'è buffer intermedio (con Gilmore e Gomery)



# Esercizio su Johnson

I tempi sulle macchine sono:

Lavori:	1	2	3	4	5	6
su $M_1$	1	2	3	4	5	7
su $M_2$	6	6	6	5	3	5



La sequenza ottima, di Johnson, è: 1-2-3-4-6-5

Dal Gantt si vede che:

$C_m = a_{i(1)} + \sum_{i=1, \dots, n} b_i = 32$  cioè, dopo la prima, non ci sono attese in  $M_2$ , così come non ci sono in  $M_1$  per la presenza del buffer intermedio

Se inoltre, come accade con questa sequenza di Johnson,  $a_{i(k)} \leq b_{i(k-1)}$  per  $k=2, \dots, n$ , allora eliminando il buffer intermedio  $C_m$  non aumenta, anche se si possono creare attese di  $M_1$

# Sequenziamento generale\* su due macchine

$$(n / 2 / G^* / F_{\max})$$

**Tipo A**

**Lavori solo su  $M_1$**

**Tipo B**

**Lavori solo su  $M_2$**

**Tipo C**

**prima su  $M_1$  poi su  $M_2$**

**Tipo D**

**prima su  $M_2$  poi su  $M_1$**

\*senza rivisitazione della stessa macchina

# Sequenziamento generale su due macchine

$$(n / 2 / G^* / F_{\max})$$

$S_A$  qualsiasi sequenza dei lavori di tipo A

$S_B$  qualsiasi sequenza dei lavori di tipo B

$S_C$  sequenza di Johnson  
di quelli di tipo C  
 $S_D$  sequenza di Johnson  
di quelli di tipo D

Le sequenze ottime sono allora:

su  $M_1$   $S_C$   $S_A$   $S_d$   
su  $M_2$   $S_d$   $S_B$   $S_C$

# Sequenziamento con tre macchine

# Sequenziamento per flusso su tre macchine



Con tempi di processamento qualsiasi è un problema difficile. Se

$$\min_{i=1, \dots, n} p_{i1} \geq \max_{i=1, \dots, n} p_{i2}$$


il problema è facile.



$$a_i = p_{i1} + p_{i2}$$

$$b_i = p_{i2} + p_{i3}$$

Algoritmo di Johnson



Sequenza ottima

si devono considerare solo le  
permutazioni (stesso sequenziamento  
sulle tre macchine)

$n$  lavori  $J_i$  di due operazioni in serie da eseguire su una linea senza buffer intermedio: il primo di lunghezza temporale  $a_i$  sulla macchina  $M_1$ ; il secondo di lunghezza  $b_i$  sulla su  $M_2$



Per minimizzare il tempo di completamento  $C_m$  degli  $n$  lavori (tutti disponibili in ingresso:  $r_{i1}=0$ ) si può applicare Gilmore e Gomery, attribuendo ad ogni lavoro  $J_i$  stato di inizio  $a_i$  e stato di fine  $b_i$



## **3.6 Algoritmo di Gilmore e Gomory per il minimo costo di commutazione**

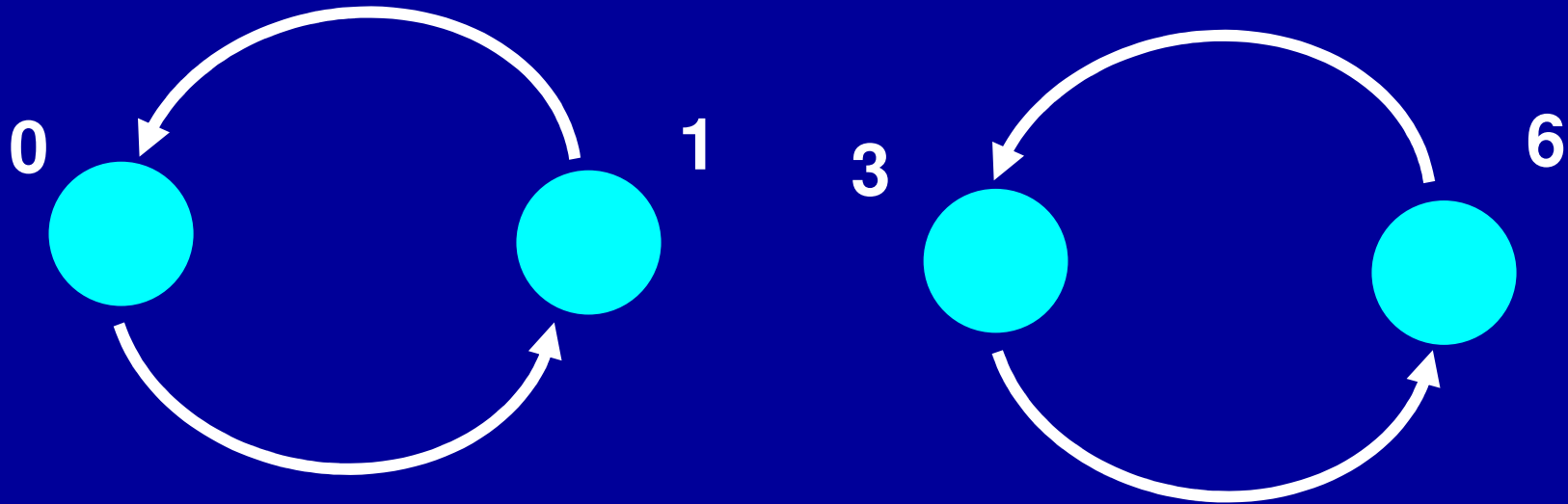
## ***Passo 1***

**Riordina e rinumera i job secondo i  $b_j$  crescenti.  
Calcola la funzione  $\varphi^*$ .**

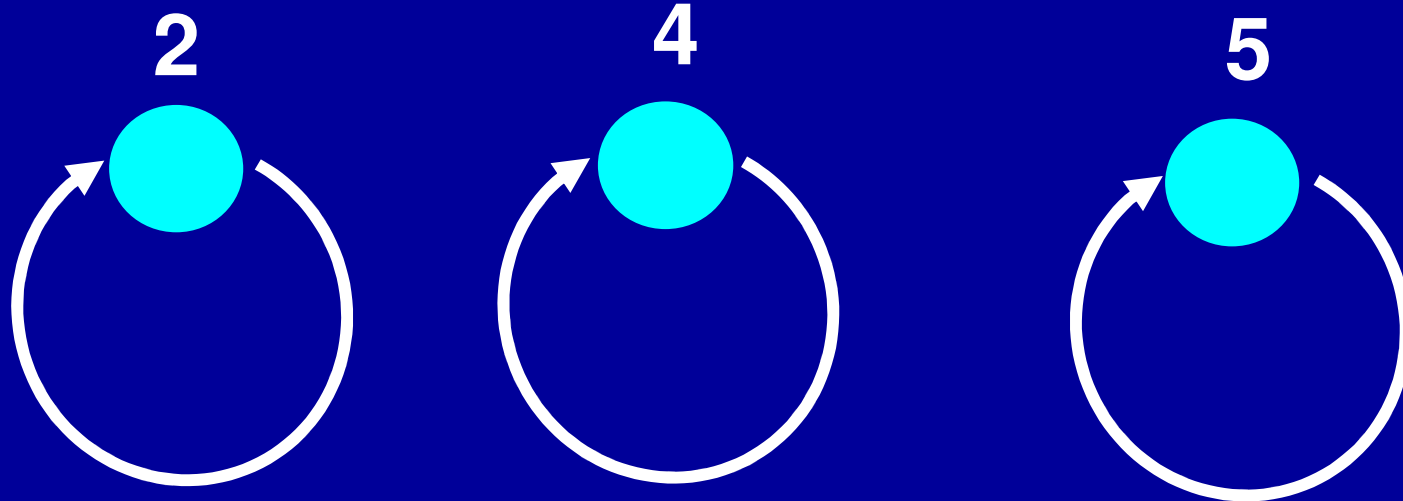
## *Passo 2*

Dai valori di  $j$ ,  $\varphi^*(j)$  si deduce  
che:

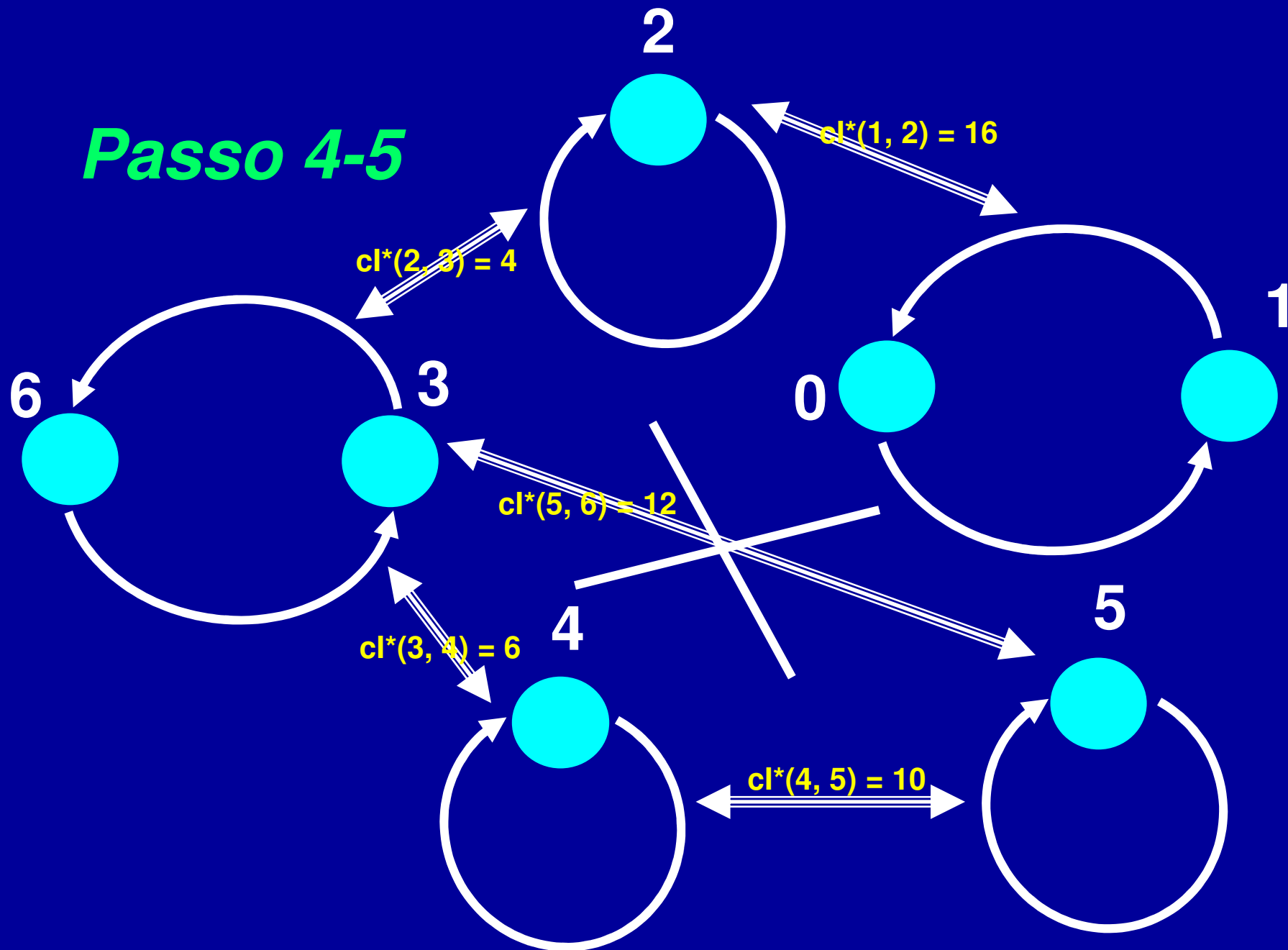
**i nodi 0 e 1 ed i nodi 3 e 6 sono  
connessi l'uno all'altro,**



**i nodi 2, 4, 5 sono indipendenti  
(ognuno, cioè, è connesso con  
sé stesso)**



# Passo 4-5



## Passo 6

Per sapere a quale gruppo appartengono gli scambi individuati, ogni  $b_j$  deve essere confrontato con il corrispondente  $a_{\varphi^*(j)}$ :

scambi	$b_j$	$a_{\varphi^*(j)}$	gruppo
$I(1, 2)$	3	7	A
$I(2, 3)$	15	16	A
$I(3, 4)$	19	18	B
$I(4, 5)$	26	22	B

$$j_1=2, j_2=1, j_3=3, j_4=4.$$

## **Passo 7**

**Il ciclo ottimo è ottenuto dopo il seguente scambio:**

$$\varphi^{**} = I(4,5) I(3,4) I(1,2) I(2,3) \varphi^* .$$

$$\varphi^* : 0,1 - 2 - 3,6 - 4 - 5$$

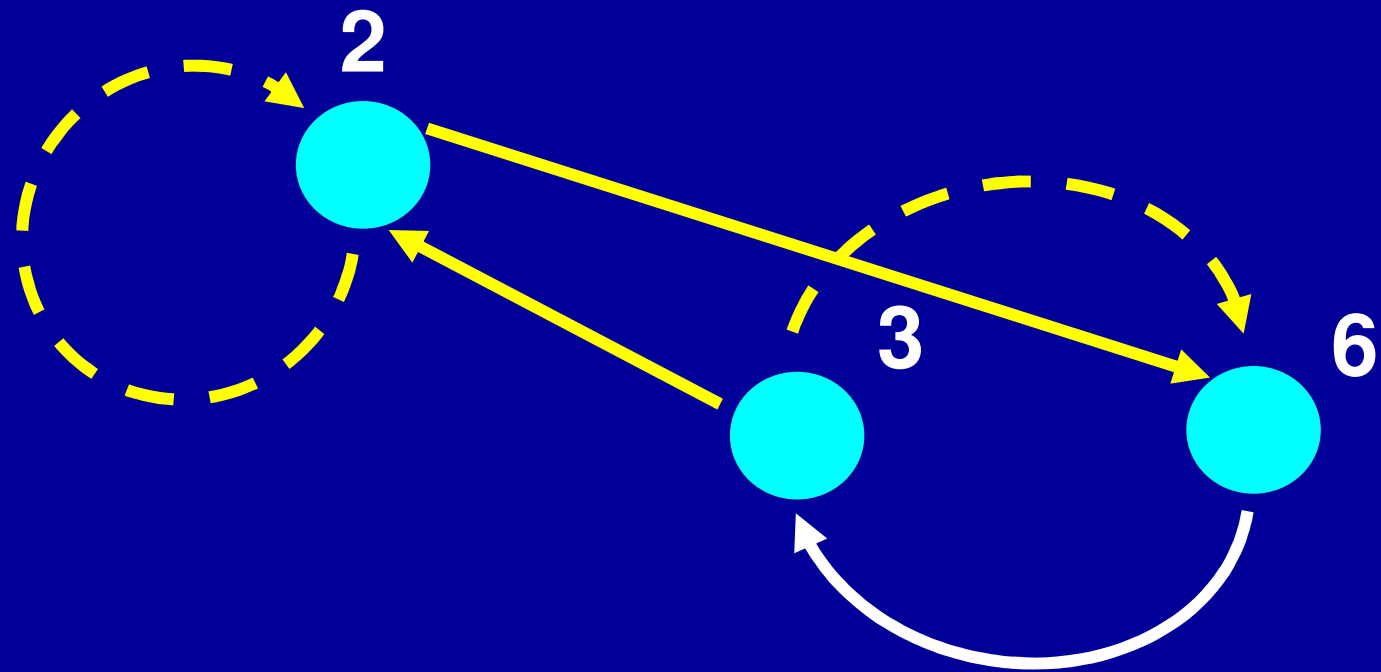
**Si ha quindi che il ciclo ottimo è<sup>o</sup>:**

$$0 \quad 1 \quad 6 \quad 3 \quad 4 \quad 5 \quad 2 \quad 0$$

**ed il costo totale**

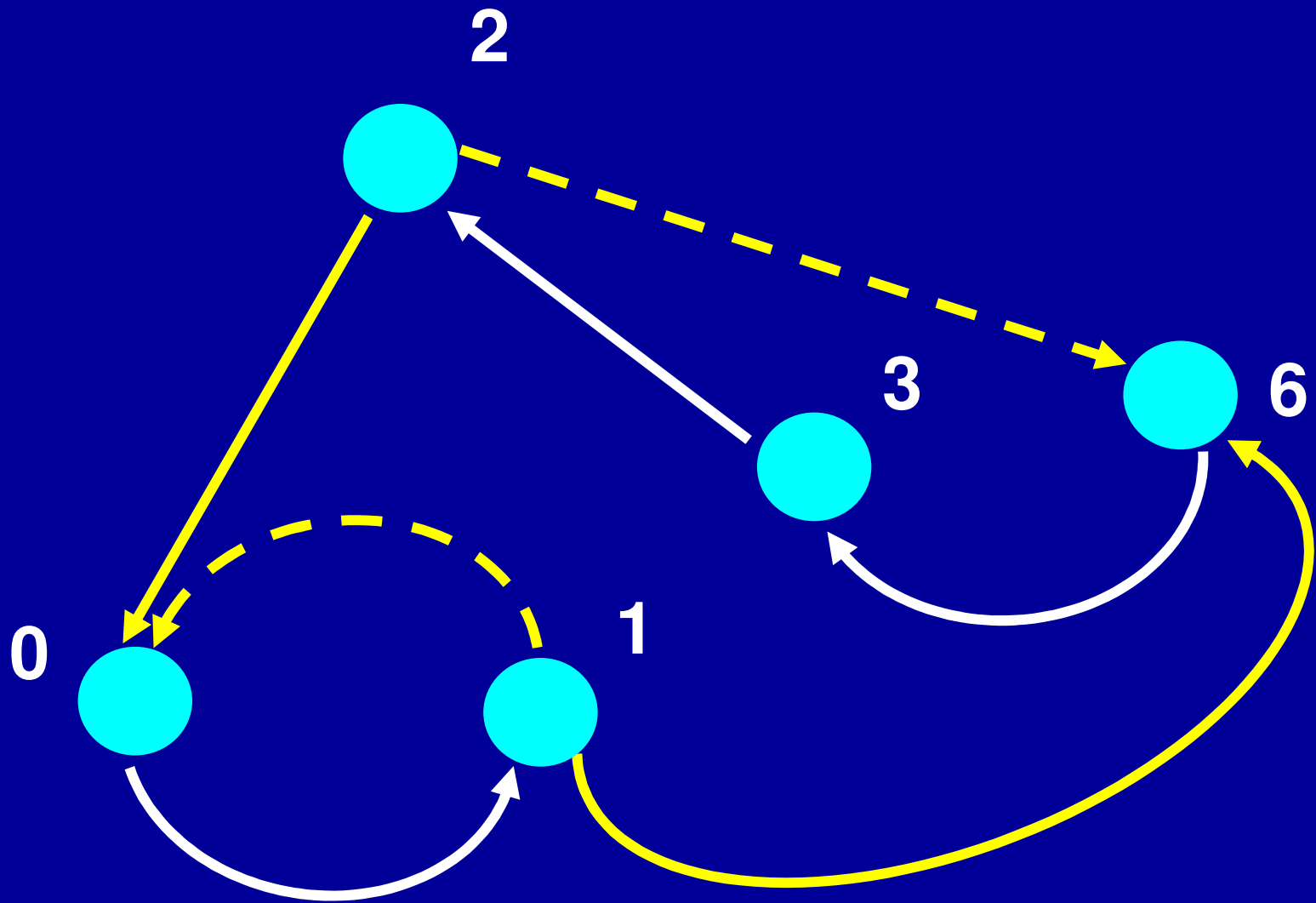
$$3 + 15 + 5 + 3 + 8 + 15 + 8 = 57.$$

<sup>o</sup>dopo gli scambi di cui a seguire

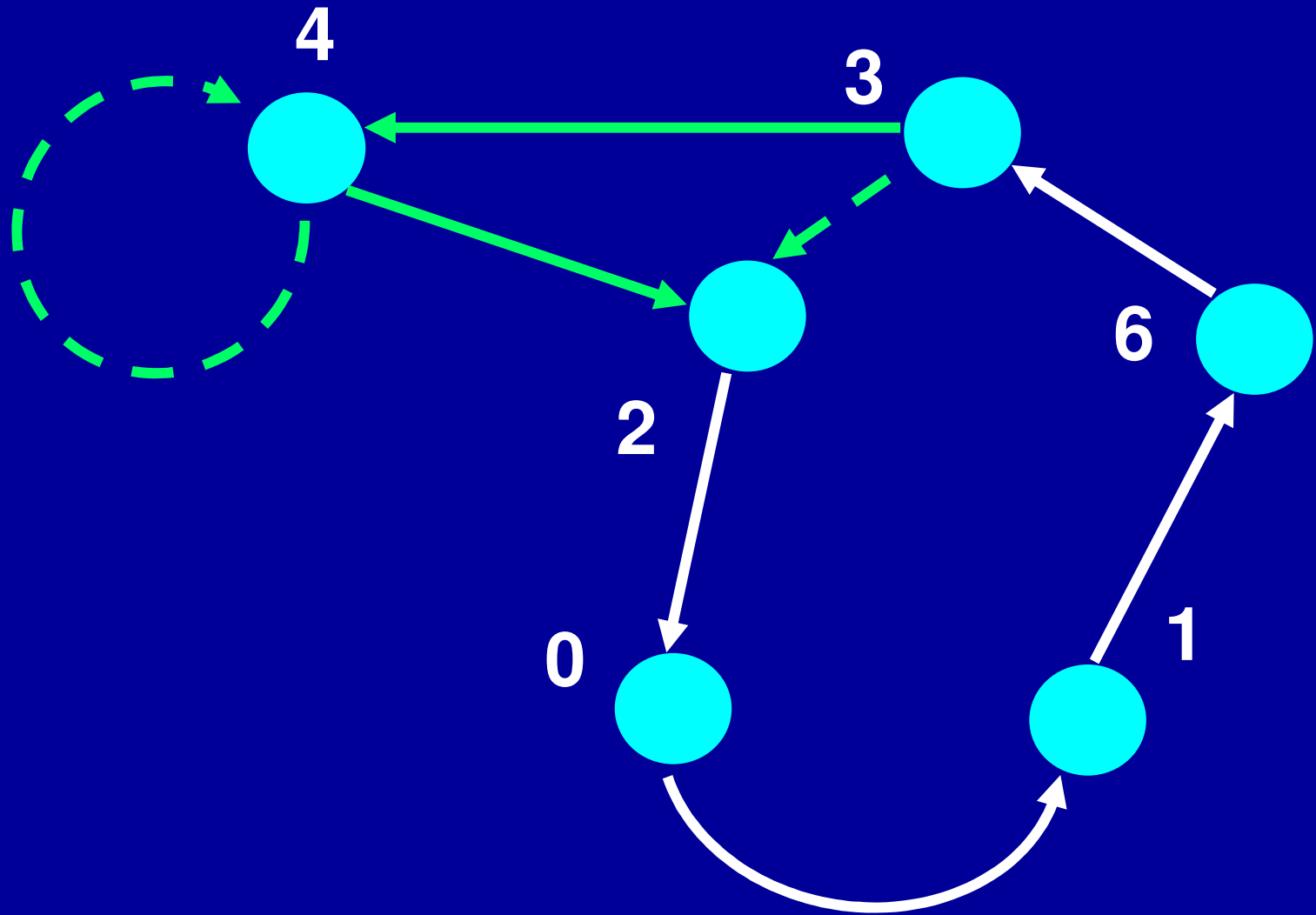


$I(2,3) \varphi^* : 0,1 - 3, 2,6 - 4 - 5;$

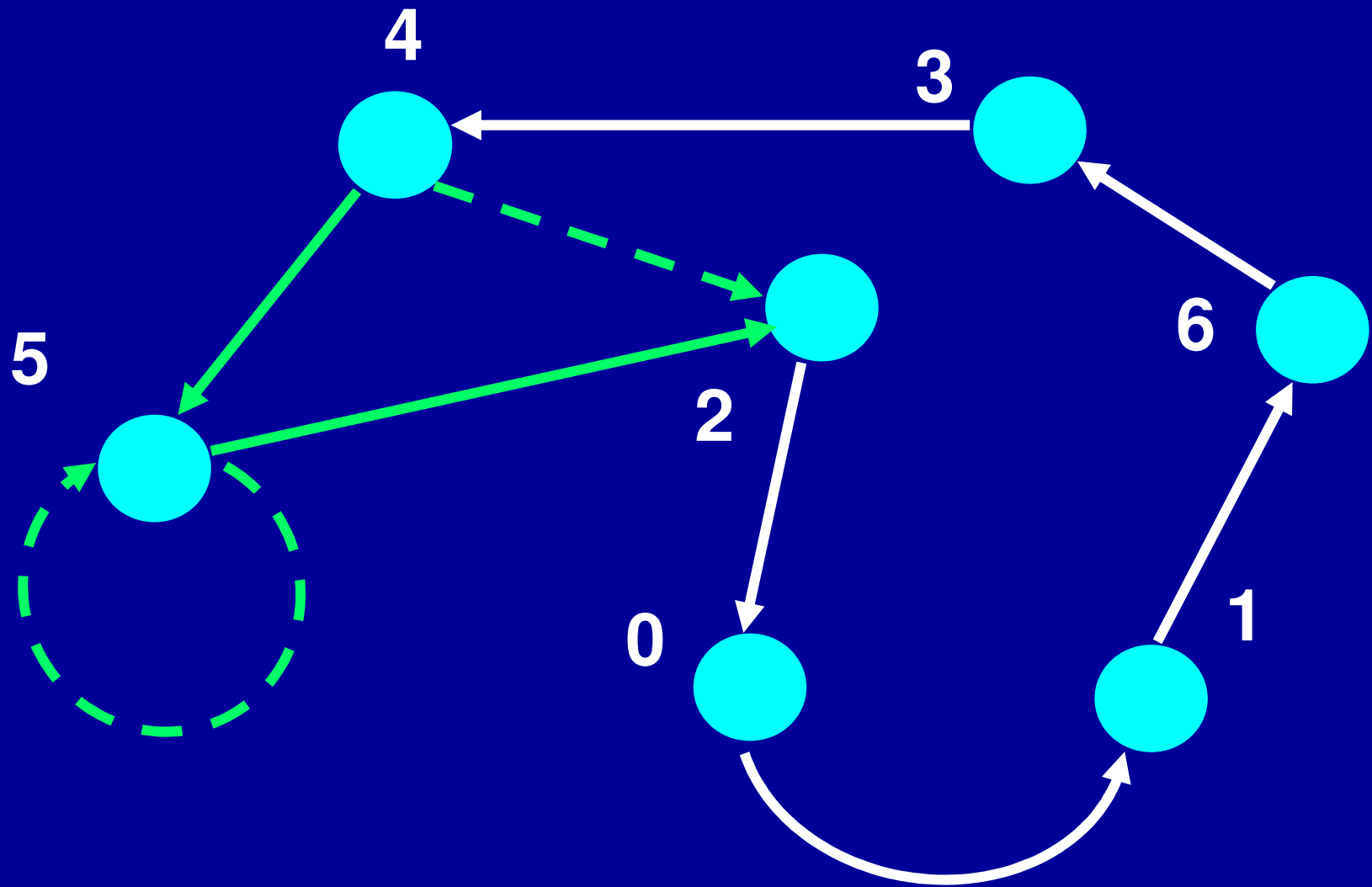




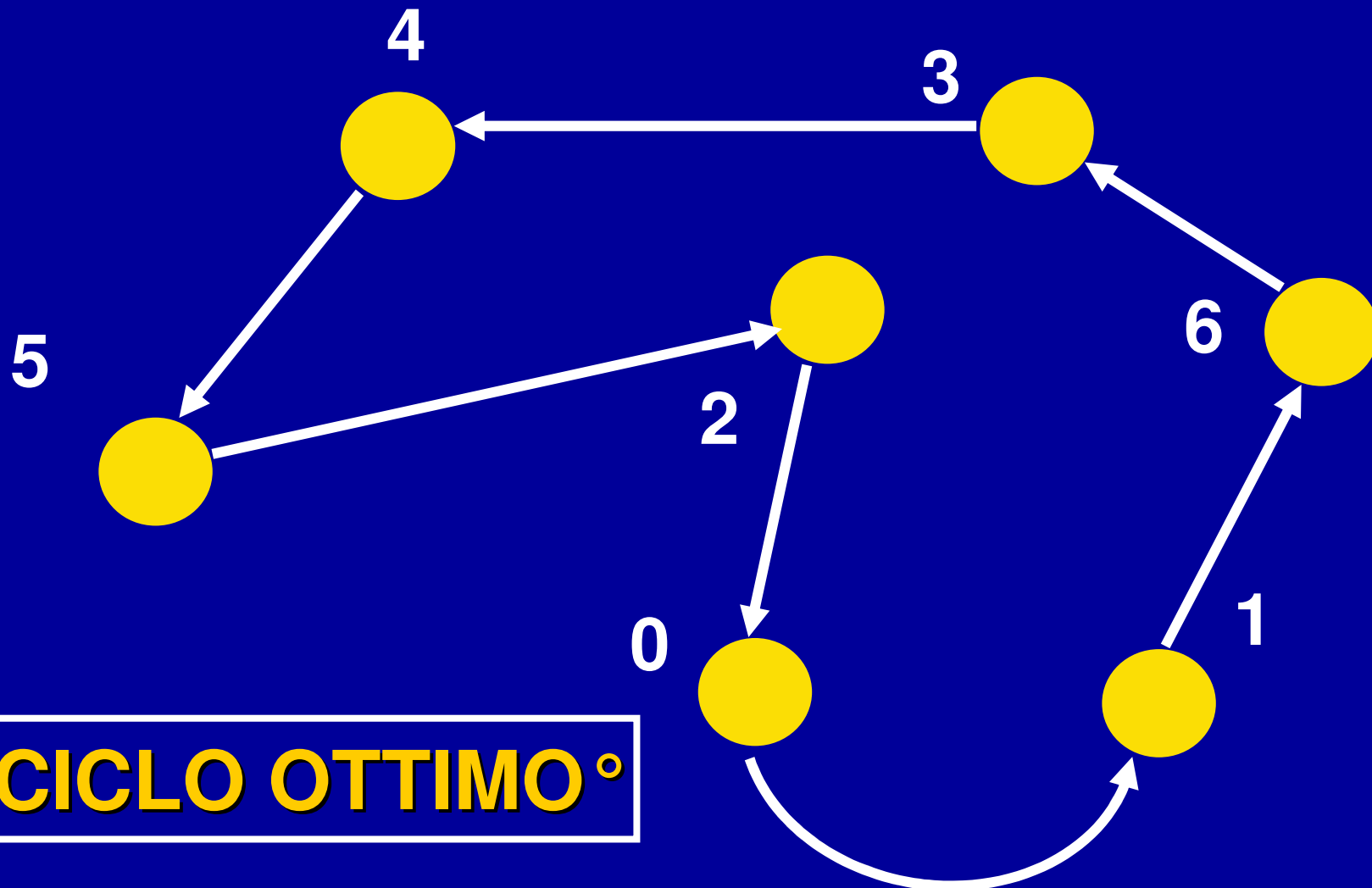
$I(1,2) I(2,3) \varphi^* : 0,1,6,3,2 - 4 - 5;$



$I(3,4) I(1,2) I(2,3) \varphi^* : 0,1,6,3,4,2 - 5;$



$I(4,5)I(3,4) I(1,2) I(2,3) \varphi^* : 0,1,6,3,4,5,2;$



**Un CICLO OTTIMO<sup>o</sup>**

<sup>o</sup> Attenzione: gl'indici sono quelli riordinati

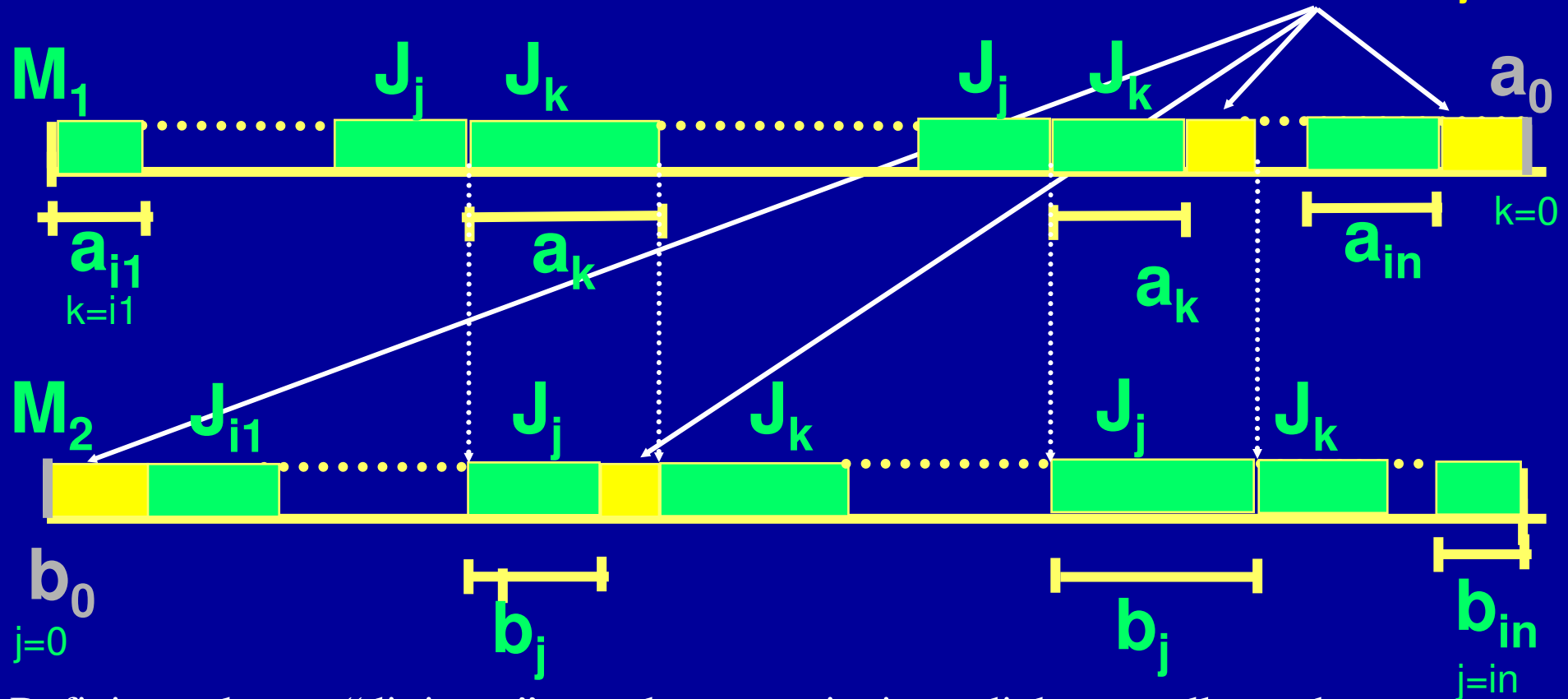
Sequenz. dei lavori su linea di  
due macchine senza buffer

intermedio  $\min \sum C_m$   
S



$$\text{Min} \sum_{j,k \in S} |b_j - a_k|$$

$J_i$  : due operazioni con tempi  $a_i$  su  $M_1$  e poi  $b_i$  su  $M_2$       attese:  $|b_j - a_k|$



Definito un lavoro “di riposo”, con due operazioni, ma di durata nulla, anche se strettamente ordinate fra loro come negli altri lavori, il minimo si ottiene minimizzando la somma dei valori assoluti delle differenze tra  $b_j$  e  $a_k$ , dove  $j$  precede  $k$ , nella permutazione degl'indici da 0 a  $n$ , relativa alla sequenza  $S$

## ESEMPIO 3): UNA APPLICAZIONE DI A\*

### Problema

Un flusso continuo di pezzi subisce ciascuno una sequenza di 10 operazioni: su una prima macchina le operazioni da  $O_1$  a  $O_{v-1}$  e poi su una seconda macchina da  $O_v$  a  $O_{10}$ , senza buffer fra le due macchine.

Flusso continuo senza buffer significa che la prima macchina esegue la sottosequenza da  $O_1$  a  $O_{v-1}$  nello stesso periodo di tempo in cui la seconda macchina esegue la sottosequenza da  $O_v$  a  $O_{10}$ .

# UNA APPLICAZIONE DI A\*

## Problema

Le operazioni richiedono i seguenti tempi:

Operazioni	1	2	3	4	5	6	7	8	9	10
Tempi	3	2	1	4	5	6	4	3	2	1

Tra le operazioni vi sono le seguenti incompatibilità, dovute alla condivisione di risorse terze, indicate con lettere

maiuscole:  $(O_1 O_3 O_6)_A$ ;  $(O_2 O_7)_B$ ;  $(O_4 O_7)_C$ ;  $(O_6 O_8)_D$ .

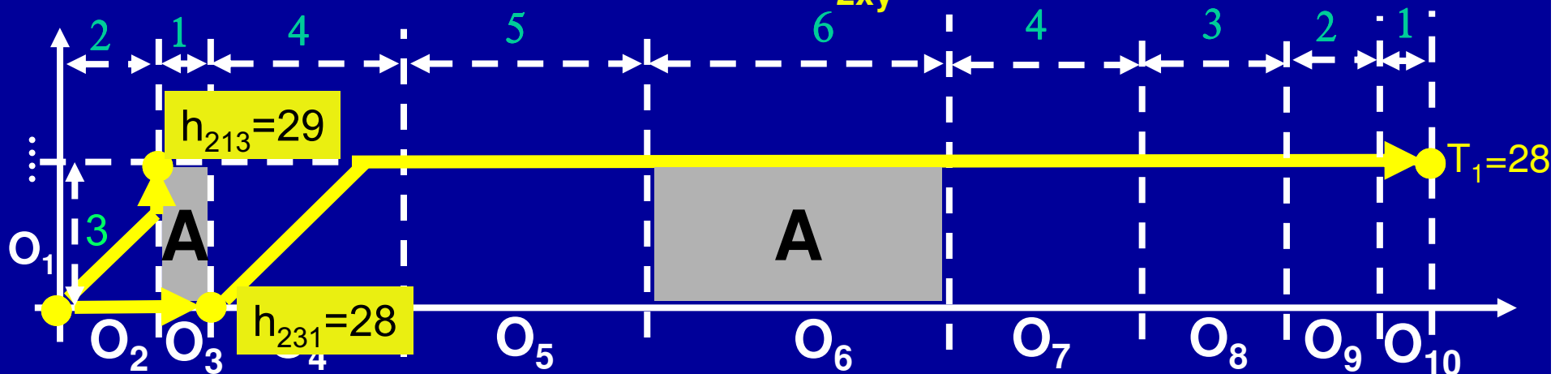
Utilizzando il grafo generato dalla griglia di condivisione delle risorse terze, si scelga  $v$  (ovviamente da 2 a 10) in modo da minimizzare il tempo di ciclo, cioè di esecuzione in parallelo delle due sottosequenze.

Si noti che, invece di usare 9 griglie, una per ciascun valore di  $v$ , che generano 9 grafi con un'origine e una destinazione, si può usare una sola griglia per generare i 9 grafi, ciascuno con la sua origine e la sua destinazione.

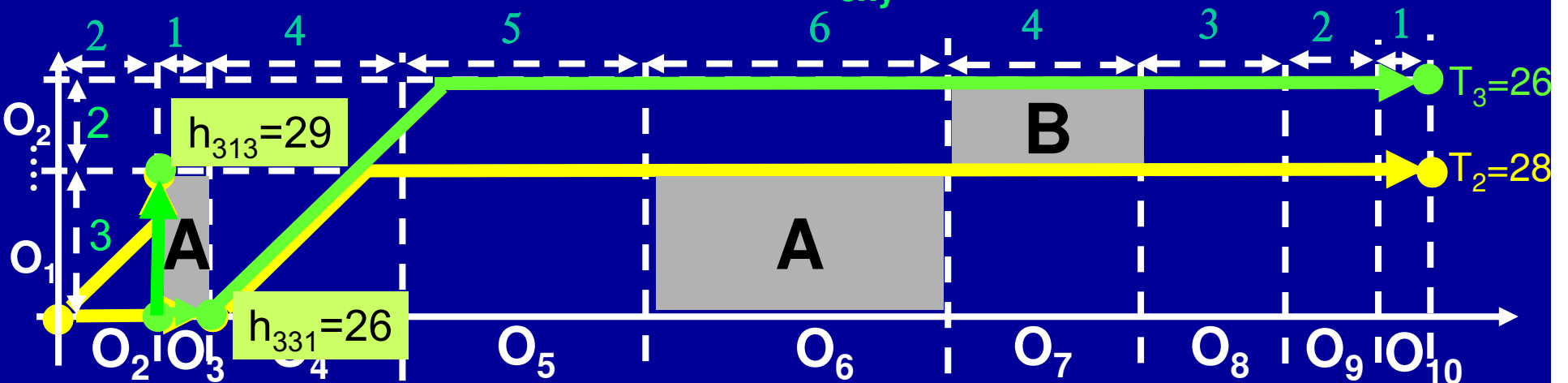
# UNA APPLICAZIONE DI A\*

$h_{ixy}$ : stima del tempo minimo di un percorso che inizia con  $O_i$  e passa per  $O_x/O_y$

## GRIGLIA DELLE OPERAZIONI e $h_{2xy}: v = 2$



## GRIGLIA DELLE OPERAZIONI e $h_{3xy}: v = 3$





# GRIGLIA DELLE OPERAZIONI: v da 2 a 7

(sviluppati solo i nodi migliori in  $A^*$ : per  $v=7$  si è dovuto tornare su  $O_7/O_2$  che ha un  $h^*$  migliore di  $O_8/O_6$  :)

Inutile considerare v da 8 a 10 perché la somma dei tempi delle operazioni assegnate a  $M_1$  supera il minimo, 21, finora ottenuto, perché è 21 per  $v=7$ .

